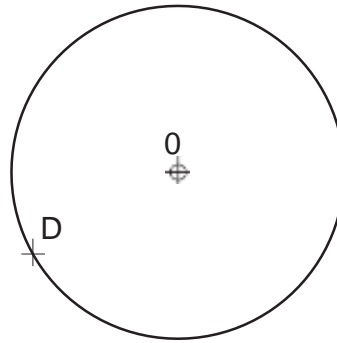
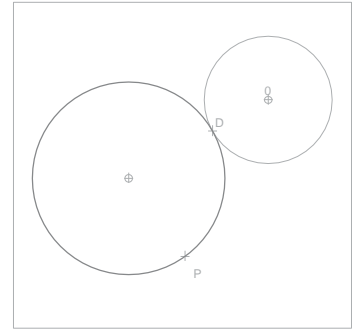


Ejercicio
49

Traza la circunferencia tangente a la dada en **Q** y que pase por el punto **P**.

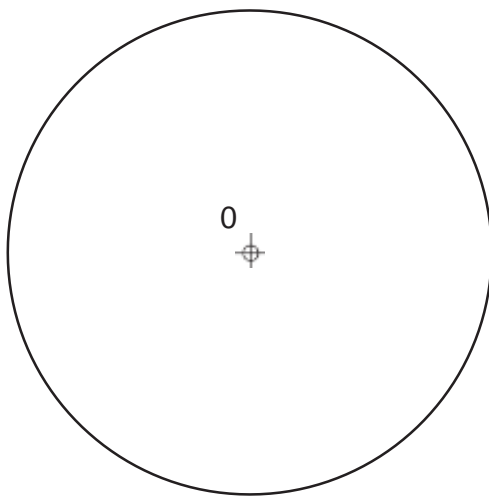
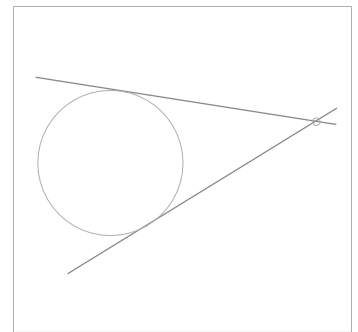


+ P

Ejercicio
50

Traza desde el punto **P** las rectas tangentes a la circunferencia dada de centro **O** y determina los puntos de tangencia.

P las rectas tangentes a la circunferencia dada de centro **O** y determina los puntos de tangencia.



+ P

Nombre: _____

LÁMINA N°: 018

Curso _____

TANGENCIAS

Nota _____