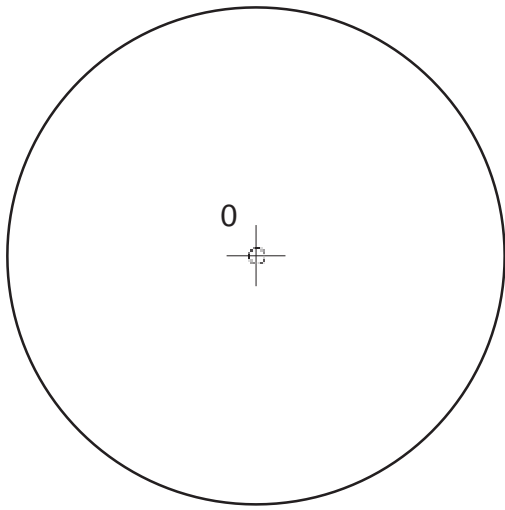


Ejercicio
46

Dada la circunferencia de centro O , traza tres rectas tangentes a la circunferencia y determina los puntos de tangencia.



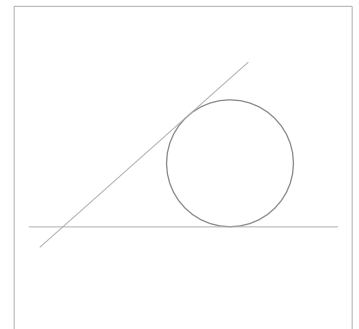
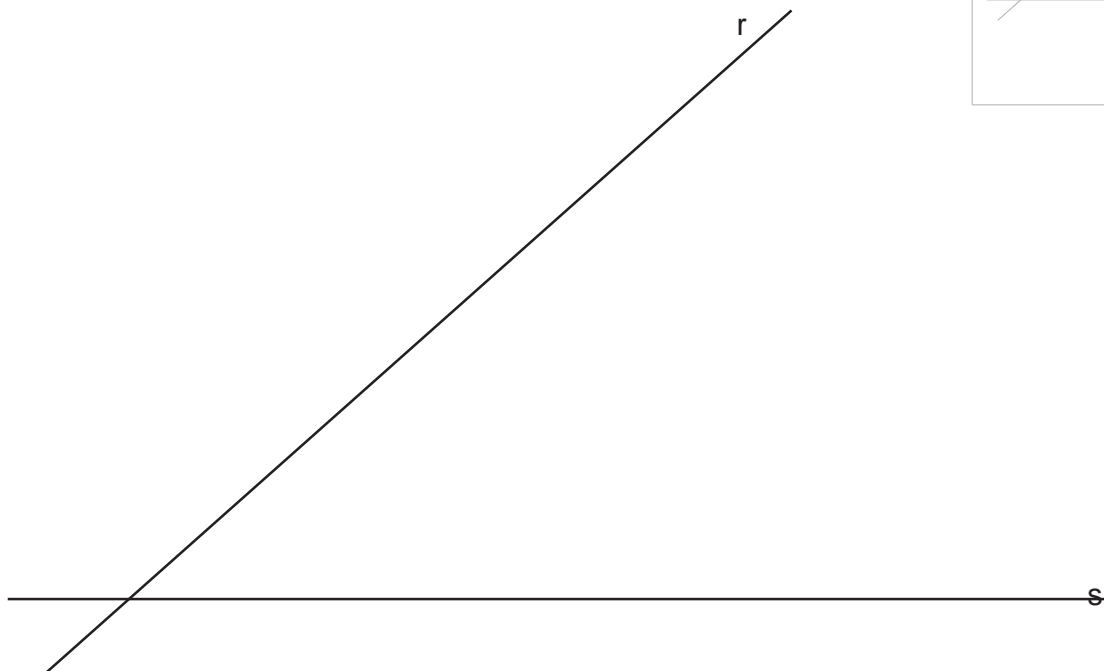
Ejercicio
47

Dada la recta r y un punto T en ella, traza las circunferencias de radio la magnitud del segmento AB tangentes a r en el punto T .



Ejercicio
48

Traza la circunferencia de radio la magnitud del segmento AB tangente a las rectas r y s dadas y, determina los puntos de tangencia.



Nombre:

Curso:

LÁMINA N°: 017

Nota:

TANGENCIAS