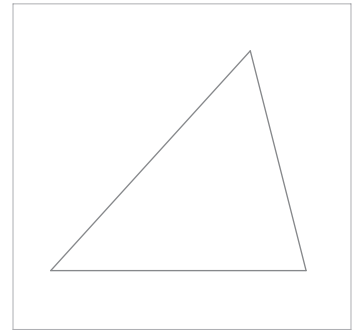



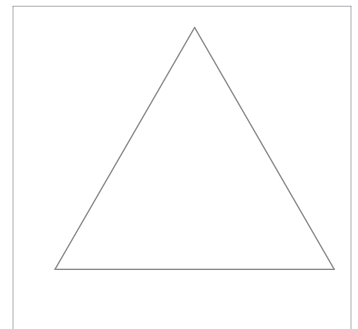
Ejercicio
20

Dibuja el triángulo **ABC** (leído en sentido contrario a las agujas del reloj), sabiendo que las magnitudes de sus lados vienen dadas por los segmentos representados **AB, AC y BC**.
Sitúa el lado **AB** sobre la semirrecta **r**.



Ejercicio
21

Dibuja un triángulo equilátero que tenga un lado situado sobre la semirrecta **r** y su magnitud se corresponda con el valor del segmento dado **AB**.



Nombre:

LÁMINA Nº: 009

Curso:

TRIÁNGULOS

Calificación: