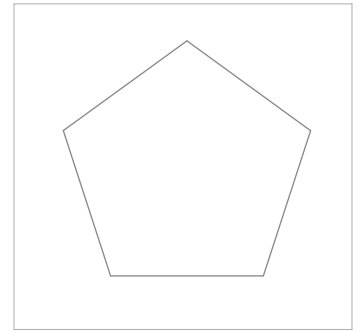



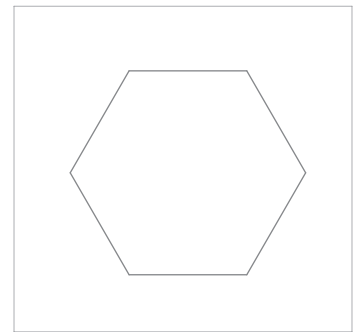
Ejercicio 34

Dibuja un pentágono regular **ABCDE** de lado el segmento **AB** dado en magnitud y posición.



Ejercicio 35

Dado el segmento **AB**, dibuja un hexágono regular de lado la magnitud del segmento **AB**. Sitúa **AB** sobre la semirrecta **r**.



Nombre:

LÁMINA N°: 015

Curso:

POLÍGONOS REGULARES

Calificación: