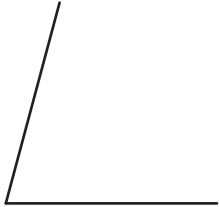


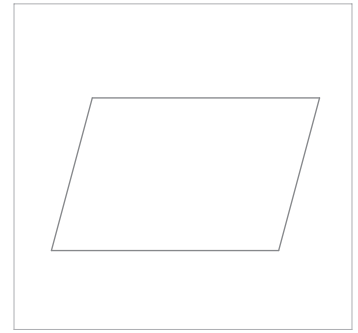



Ejercicio
32

Dibuja el romboide **ABCD** (leído en sentido contrario a las agujas del reloj), sabiendo que sus lados vienen dados por los segmentos **AB** y **AD**, y uno de sus ángulos agudos vale 75° . Sitúa **AB** sobre la semirrecta **r**.



Ejercicio
33

Dibuja el trapecio isósceles **ABCD** (leído en sentido contrario a las agujas del reloj), conociendo las magnitudes de sus bases y altura por los segmentos representados. Sitúa **AB** sobre la semirrecta **r**.



Nombre:

LÁMINA Nº: 014

Curso:

CUADRILÁTEROS

Calificación: