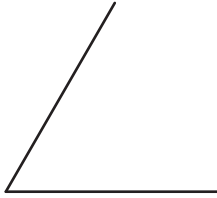

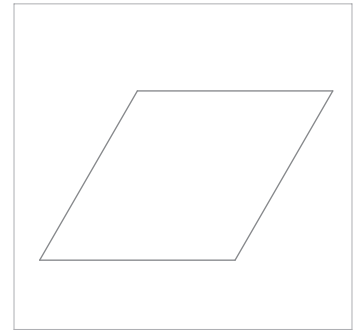


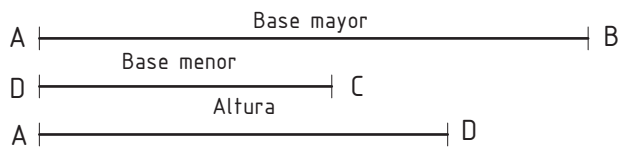

Ejercicio
30

Dibuja un rombo **ABCD** conocida la magnitud de uno de sus lados por el segmento **AB** y uno de sus ángulos agudos mide 60° . Sitúa **AB** sobre la semirrecta **r**.



Ejercicio
31

Dibuja el trapecio rectángulo **ABCD** (leído en sentido contrario a las agujas del reloj), conociendo las magnitudes de sus bases y altura por los segmentos representados. Sitúa **AB** sobre la semirrecta **r**.



Nombre:

LÁMINA N°: 013

Curso:

CUADRILÁTEROS

Calificación: