



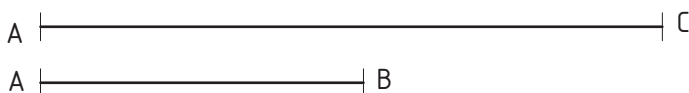
Ejercicio 28

Dado el segmento **AB**, dibuja el cuadrado **ABCD** sabiendo que el lado **AB** está situado sobre la semirrecta **r**.



Ejercicio 29

Dibuja un rectángulo **ABCD** que tienen por diagonal la magnitud del segmento **AC** y, uno de sus lados mide el segmento **AB**. Para su construcción sitúa la diagonal **AC** sobre la semirrecta **r**.



Nombre:

LÁMINA Nº: 012

Curso:

CUADRILÁTEROS

Calificación: