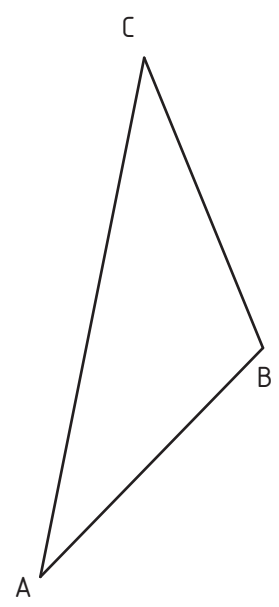


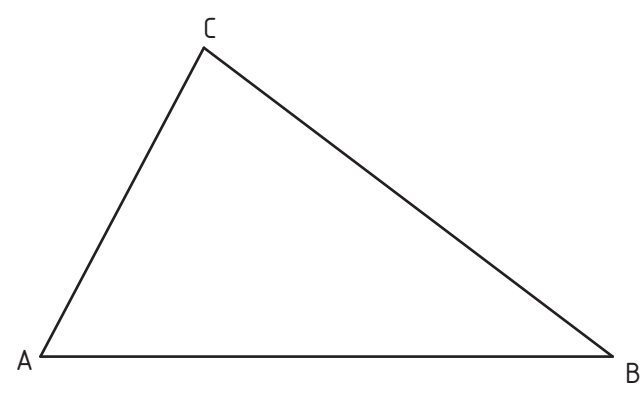
Ejercicio 24

Dado el triángulo **ABC** dibuja sus tres alturas y determina el ortocentro.



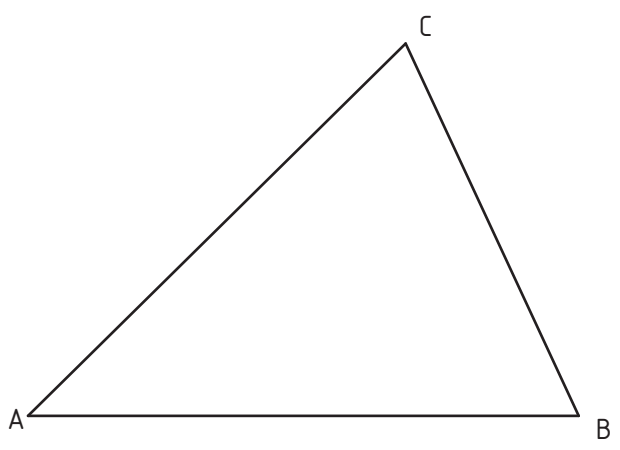
Ejercicio 25

Dado el triángulo **ABC** dibuja sus tres medianas y determina el baricentro.



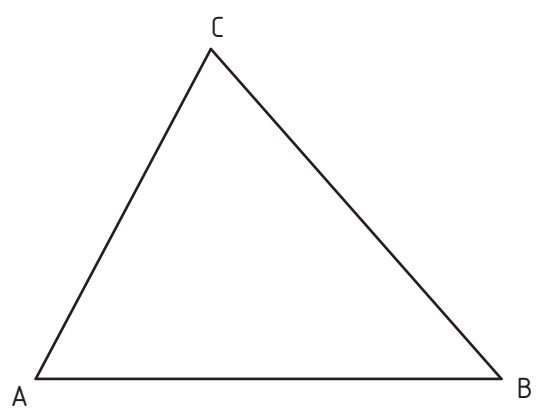
Ejercicio 26

Dado el triángulo **ABC** dibuja sus tres bisectrices y determina el incentro.



Ejercicio 27

Dado el triángulo **ABC** dibuja sus tres mediatrices y determina el circuncentro.



Nombre: .....

Curso: .....

**TRIÁNGULOS**

**LÁMINA Nº: 011**

Calificación: .....