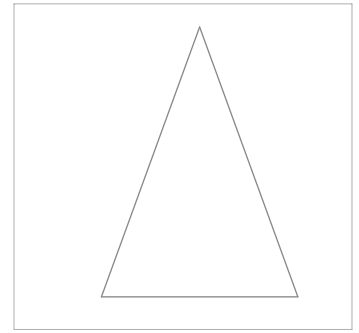
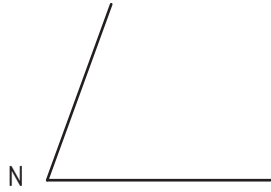


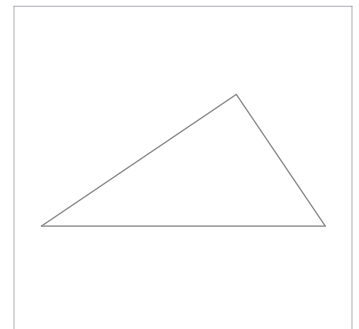

Ejercicio
22

Dibuja el triángulo isósceles **ABC** sabiendo que su base (lado que es desigual) es el segmento **AB** dado en magnitud y posición, y sus ángulos que son iguales se corresponden con la magnitud del ángulo dado de vértice **N**.



Ejercicio
23

Dibuja el triángulo rectángulo **ABC**, sabiendo que la hipotenusa y uno de sus catetos se corresponden con las magnitudes de los segmentos dados **AB** y **AC** respectivamente. Sitúa el lado **AB** (hipotenusa) sobre la semirrecta **r**.



Nombre:

LÁMINA N°: 010

Curso:

TRIÁNGULOS

Calificación: