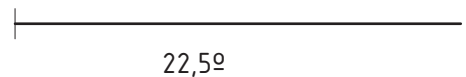
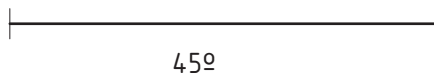



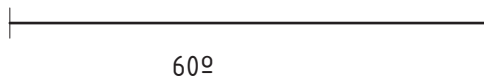


Ejercicio
18

Dibuja los ángulos indicados con el compás, sabiendo que uno de sus lados se corresponde con la semirrecta dada y su vértice es el extremo de la misma. Como sentido positivo se elige el contrario a las agujas del reloj.



Nombre:

Curso:

LÁMINA N°: 007

ÁNGULOS

Calificación: