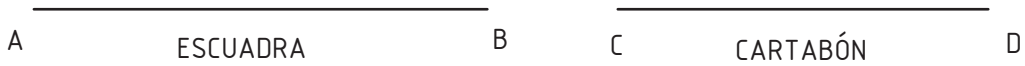
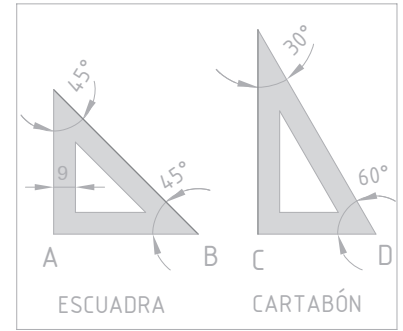


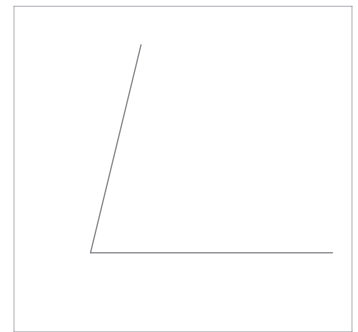
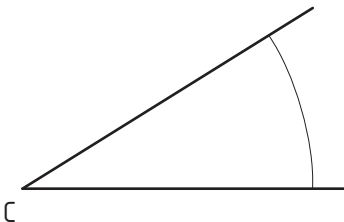
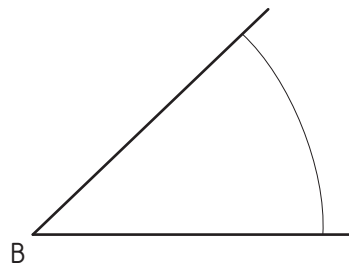
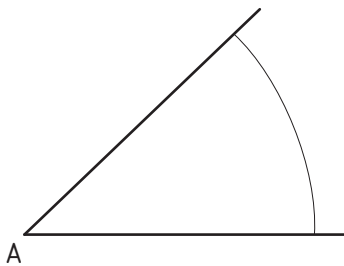
Ejercicio 16

Teniendo en cuenta que en todo juego de plantillas (escuadra y cartabón) la hipotenusa de la escuadra mide lo mismo que el cateto mayor del cartabón, dibuja la silueta de la escuadra y el cartabón en el lugar y posición que se indica. Para la construcción de los ángulos utiliza las escuadras.



Ejercicio 17

Dados los ángulos de vértices **A**, **B** y **C**, realiza la operación geométrica: $A + B - C$. Sitúa el ángulo resultante tomando como uno de los lados la semirrecta **r** y siendo **M** su vértice. Deja constancia de los trazados auxiliares.



Nombre:

LÁMINA Nº: 006

Curso:

ÁNGULOS

Calificación: